


Arbeitsblatt _____

Name: _____




1.) Lege folgende Geldbeträge mit
möglichst wenig Münzen!

0,44 €

0,32 €

1,45 €

3,33 €



2.) Schreibe auf, wie viel Geld das ist!





3.) Ist es gleich viel Geld? Entscheide, welches Zeichen passt!




= ____ , ____ €



= ____ , ____ €



= ____ , ____ €



= ____ , ____ €




= ____ , ____ €




= ____ , ____ €



= ____ , ____ €



= ____ , ____ €



5.) Trage die Zahlen in die 100er- Tafel ein!



1	2	3	4	5	6	7	8	9	10
									20
									30
									40
									50
									60
									70
									80
									90
									100

36, 14, 9, 26, 56, 89, 79, 54, 12, 23, 61, 7